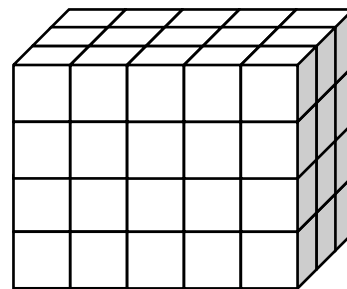
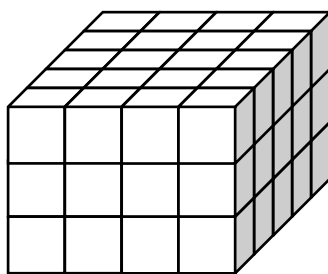
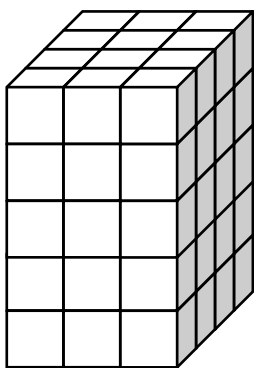
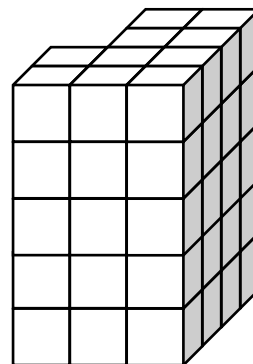
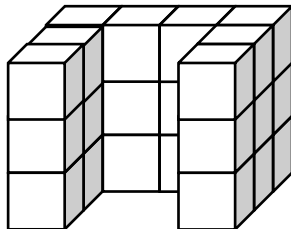
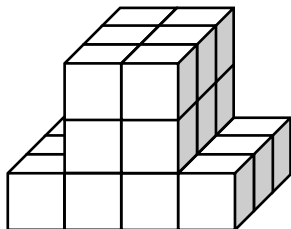
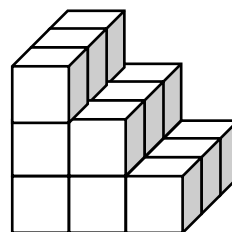
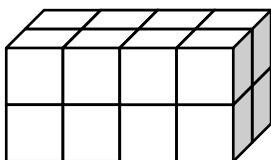
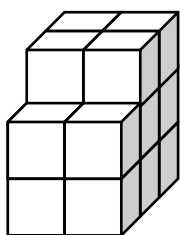




تاریخ:

نام و نام خانوادگی:

دوست خوبم، ابتدا هر یک از این شکل‌های سه‌بعدی را با استفاده از چینه‌ها بسازید. سپس حجم آن را برحسب چینه حساب کنید؛ یعنی حساب کنید که با چند تا چینه ساخته شده است. برای ساده‌تر شدن کار می‌توانید قطعه‌ها را جابه‌جا کنید. راه‌حلتان را به صورت رابطه‌های ریاضی ثبت کنید.



چه چیزی از این فعالیت یاد گرفتید؟ لطفا در چند جمله بنویسید.