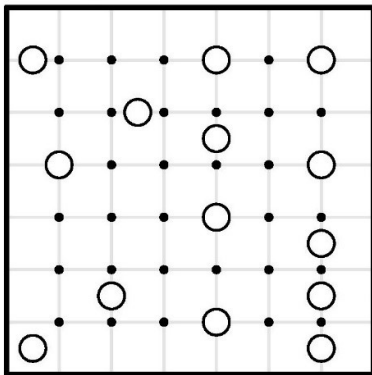


نام و نام خانوادگی: تاریخ:

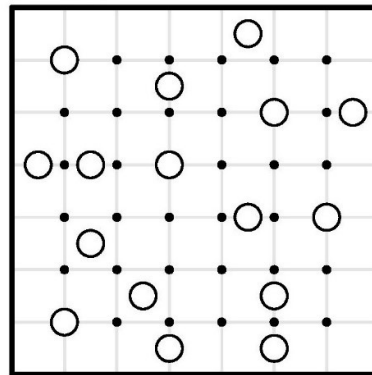
در هر صفحه، دایره‌هایی می‌بینید که هر کدام، خورشید یک کهکشان هستند و شما باید حد و مرز این کهکشان‌ها را با دو شرط مشخص کنید:

۱. هر کهکشان باید تقارن مرکزی داشته باشد.
۲. کهکشان‌ها باید در کنار هم قرار بگیرند و همه‌ی صفحه را پر کنند.

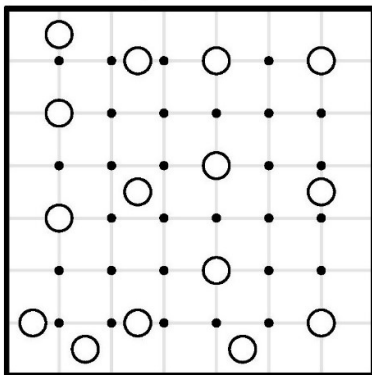
کهکشان ۲



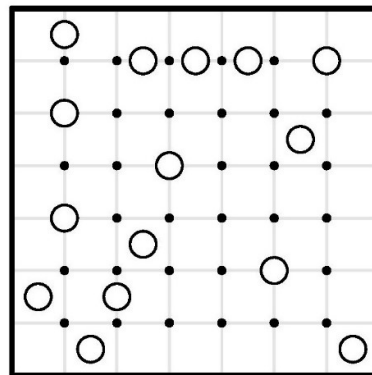
کهکشان ۱



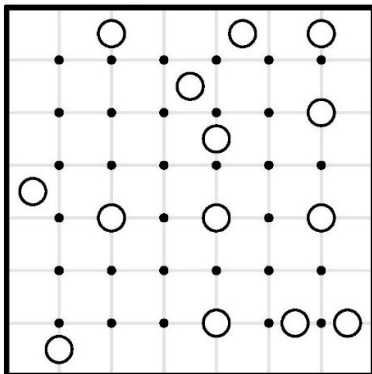
کهکشان ۴



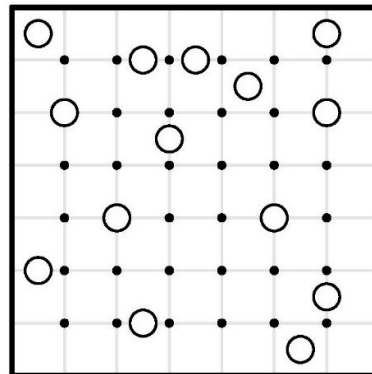
کهکشان ۳



کهکشان ۶



کهکشان ۵

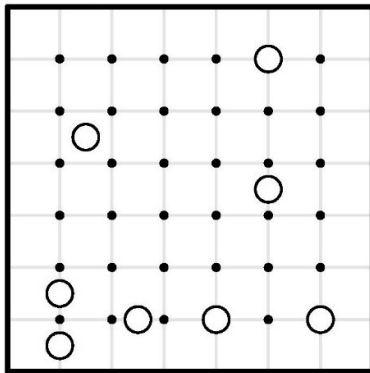


نام و نام خانوادگی: تاریخ:

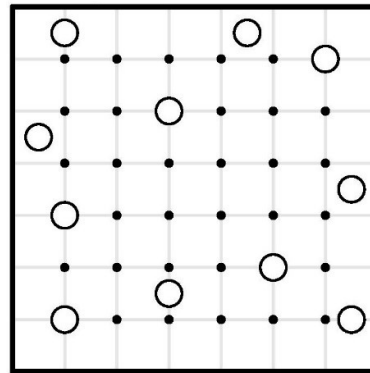
در هر صفحه، دایره‌هایی می‌بینید که هر کدام، خورشید یک کهکشان هستند و شما باید حد و مرز این کهکشان‌ها را با دو شرط مشخص کنید:

۱. هر کهکشان باید تقارن مرکزی داشته باشد.
۲. کهکشان‌ها باید در کنار هم قرار بگیرند و همه‌ی صفحه را پر کنند.

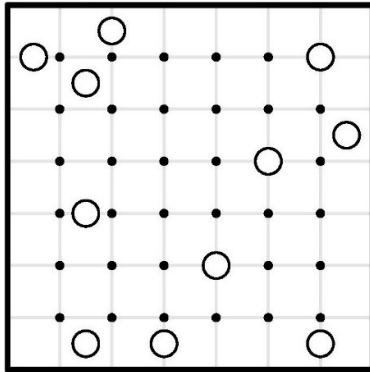
کهکشان ۸



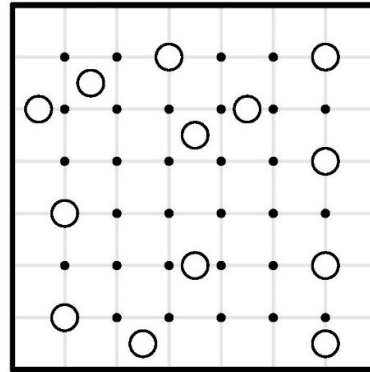
کهکشان ۷



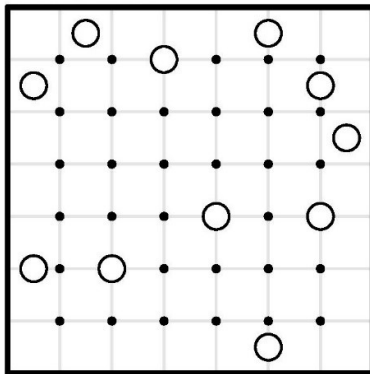
کهکشان ۱۰



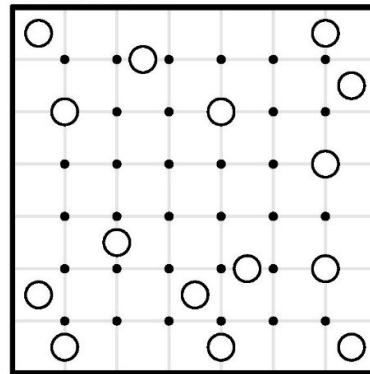
کهکشان ۹



کهکشان ۱۲



کهکشان ۱۱

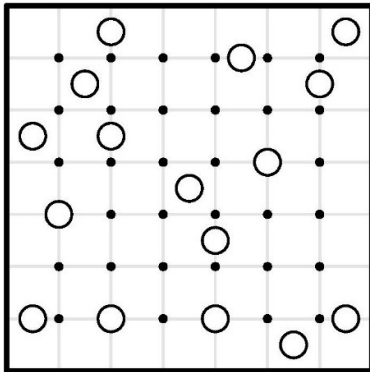


نام و نام خانوادگی: تاریخ:

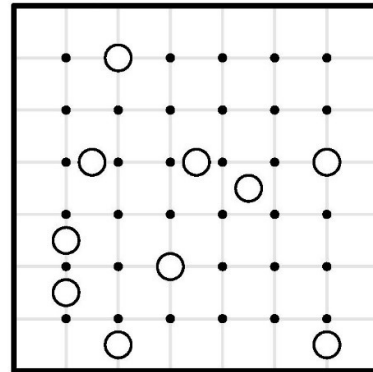
در هر صفحه، دایره‌هایی می‌بینید که هر کدام، خورشید یک کهکشان هستند و شما باید حد و مرز این کهکشان‌ها را با دو شرط مشخص کنید:

۱. هر کهکشان باید تقارن مرکزی داشته باشد.
۲. کهکشان‌ها باید در کنار هم قرار بگیرند و همه‌ی صفحه را پر کنند.

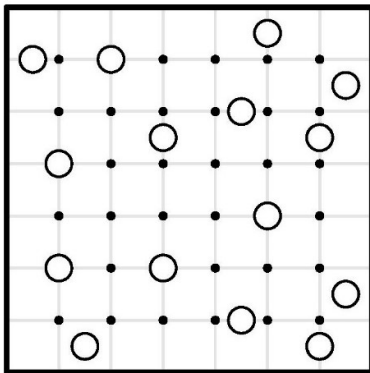
کهکشان ۱۴



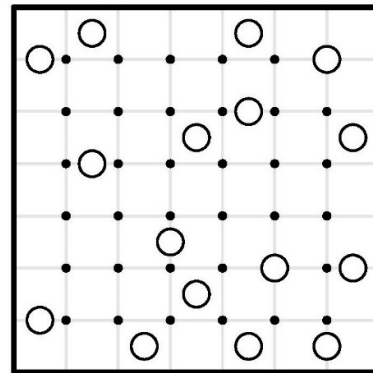
کهکشان ۱۳



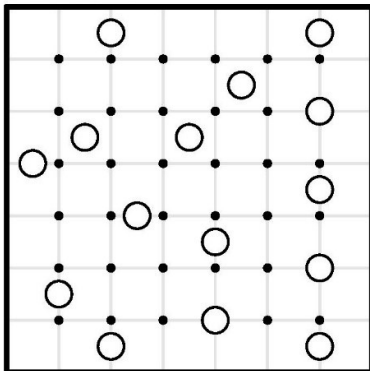
کهکشان ۱۶



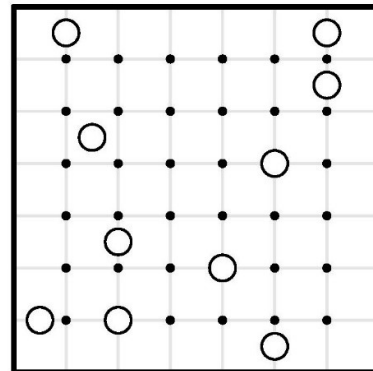
کهکشان ۱۵



کهکشان ۱۸



کهکشان ۱۷

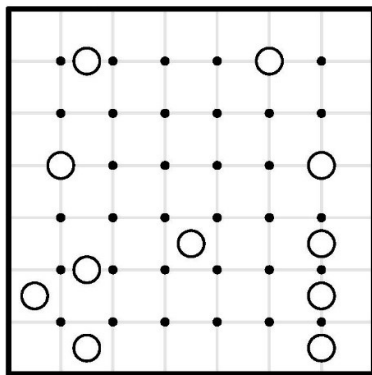


نام و نام خانوادگی: تاریخ:

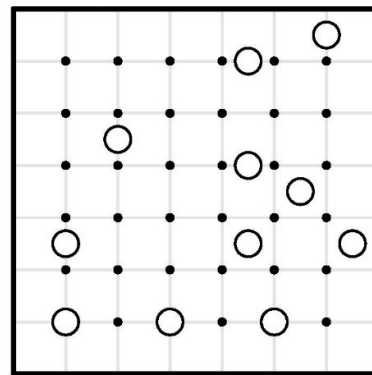
در هر صفحه، دایره‌هایی می‌بینید که هر کدام، خورشید یک کهکشان هستند و شما باید حد و مرز این کهکشان‌ها را با دو شرط مشخص کنید:

۱. هر کهکشان باید تقارن مرکزی داشته باشد.
۲. کهکشان‌ها باید در کنار هم قرار بگیرند و همه‌ی صفحه را پر کنند.

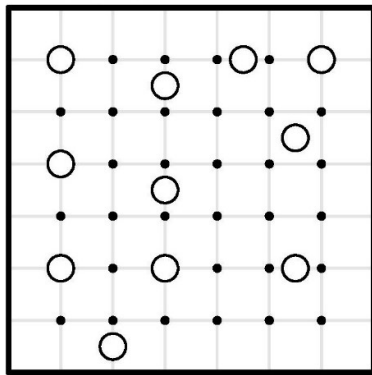
کهکشان ۲۰



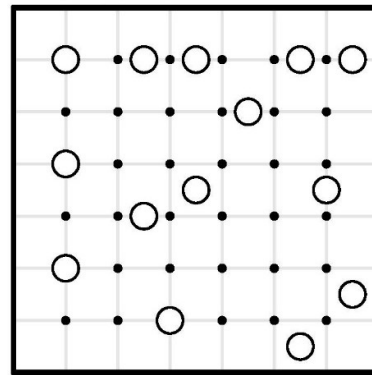
کهکشان ۱۹



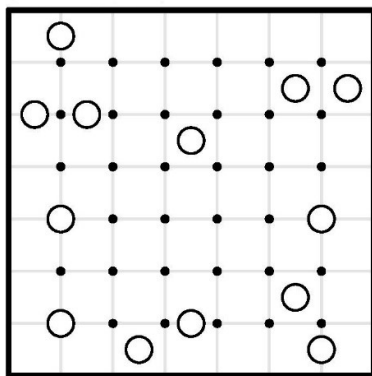
کهکشان ۲۲



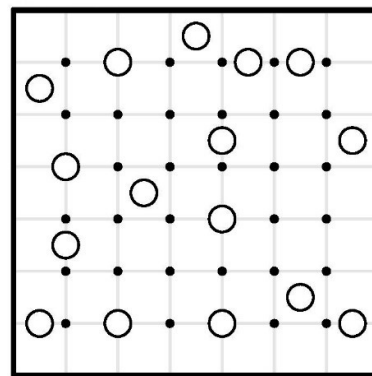
کهکشان ۲۱



کهکشان ۲۴



کهکشان ۲۳



نام و نام خانوادگی:

تاریخ:

پاسخ کهکشان‌های ۱-۲۴

