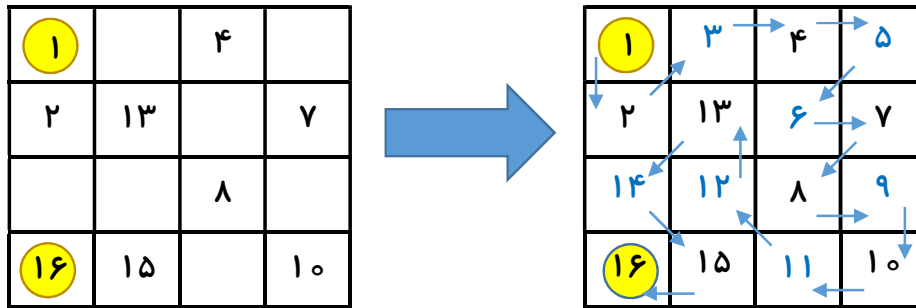


نام و نام خانوادگی: تاریخ:

دوست خوبم در خانه‌های یک «پازل هیداتو» اعداد طوری چیده می‌شوند که هر دو عدد پشت سر هم، به صورت افقی، عمودی یا مورب در خانه‌های کنار هم قرار گیرند. در اینجا یک نمونه از این پازل و حل آن را می‌بینی:



پازل‌های بعدی را کامل کن.

	1	10	
5		11	
4		7	
16		14	

	14		16
	1	15	3
	8		6
10		7	

	4	5	16
8	6		
	12		14
10		13	1

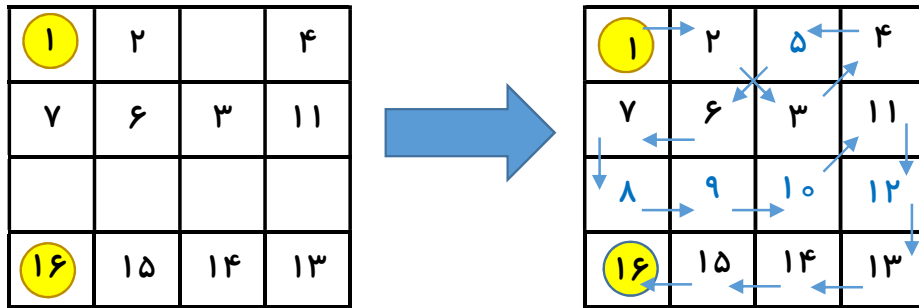
16		5	
14	1	4	7
	3	2	8
	11	10	

14	16	1	
		4	2
	10	16	
			7

6		8	
3	5		12
4	2	13	11
1			16

نام و نام خانوادگی: تاریخ:

دوست خوبم در خانه‌های یک «پازل هیداتو» اعداد طوری چیده می‌شوند که هر دو عدد پشت سر هم، به صورت افقی، عمودی یا مورب در خانه‌های کنار هم قرار گیرند. در اینجا یک نمونه از این پازل و حل آن را می‌بینی:



پازل‌های بعدی را کامل کن.

	۹		۱
۱۲	۱۰	۸	۳
۱۶	۱۳	۷	
	۱۴		۵

	۴	۹	
۲	۱۰		۷
	۱	۱۶	۶
۱۲	۱۳	۱۴	

۷		۵	
	۶	۲	۳
	۱۳	۱	۱۶
۱۱	۱۲		۱۵

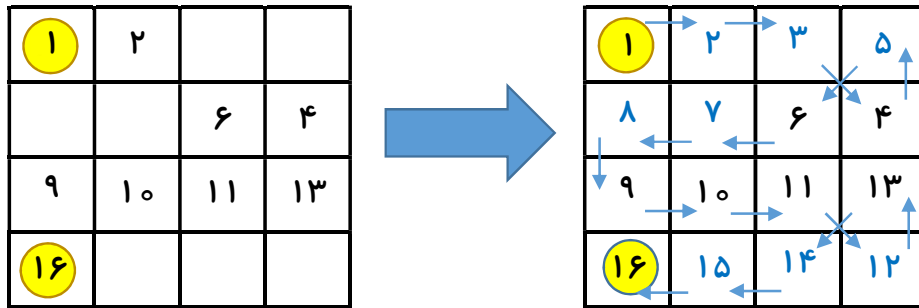
۱۵	۱۶		۳
۱۴	۱	۲	۵
	۱۳		
۱۲		۸	۷

۱۵			۱۱
۱۶	۹	۱۳	۱۲
۸	۴		
۷		۵	۱

۵	۶	۱	۲
			۱۰
	۸		
۱۶			۱۲

نام و نام خانوادگی: تاریخ:

دوست خوبم در خانه‌های یک «پازل هیداتو» اعداد طوری چیده می‌شوند که هر دو عدد پشت سر هم، به صورت افقی، عمودی یا مورب در خانه‌های کنار هم قرار گیرند. در اینجا یک نمونه از این پازل و حل آن را می‌بینی:



پازل‌های بعدی را کامل کن.

1			
	۱۳	۳	16
۱۲		۴	
			۵

۳		۱۰	
1	16	۹	
۱۵		۱۳	

	۸	1	
۶	16		
۱۵		۴	۱۰

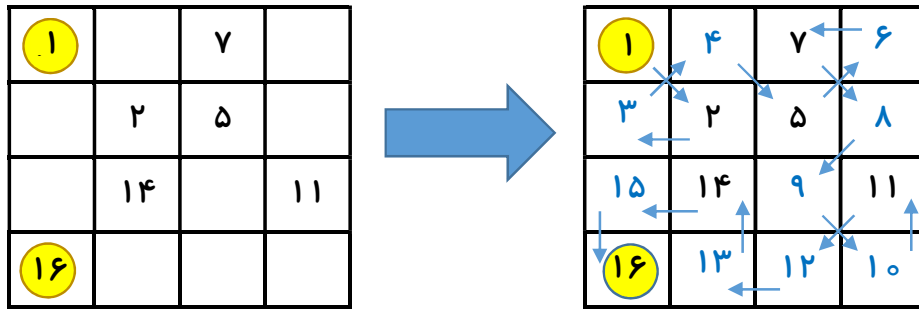
	۱۵	۳	
16		۲	
۱۰			1
			۷

		۱۵	16
۱۲		1	
۱۱		۳	
			۵

			16
۱۱	۲	۷	
1			۵

نام و نام خانوادگی: تاریخ:

دوست خوبم در خانه‌های یک «پازل هیداتو» اعداد طوری چیده می‌شوند که هر دو عدد پشت سر هم، به صورت افقی، عمودی یا مورب در خانه‌های کنار هم قرار گیرند. در اینجا یک نمونه از این پازل و حل آن را می‌بینی:



پازل‌های بعدی را کامل کن.

	1		
		7	
		13	
	16		11

3			
	1	7	
		8	
16	14		

1	16		
			4
		11	
			10

			1
	7	15	
	8	16	

16		8	
		9	
	12		1

14		16	4
12			
			6
	8		1