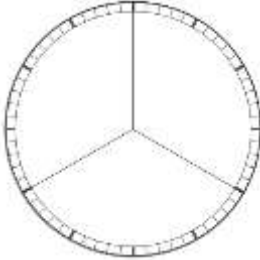
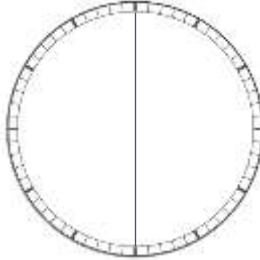


نام و نام خانوادگی: ..... تاریخ: .....

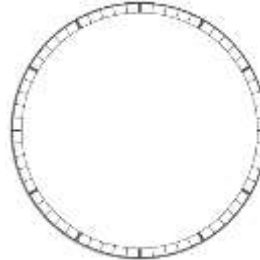
دوست خوبم، هر کدام از ساعت‌های زیر به چند قسمت مساوی تقسیم شده‌اند.  
به دلخواه چندتا از ساعت‌ها را انتخاب کن و جاهای خالی مربوط به آن‌ها را مانند نمونه پر کن.



ساعت ..... قسمت مساوی شده است  
و هر قسمت ..... دقیقه است.



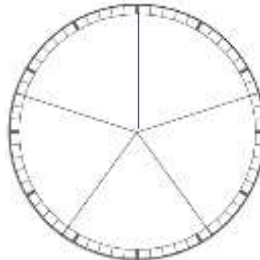
ساعت ۲ قسمت مساوی شده است.  
و هر قسمت ۳۰ دقیقه است.



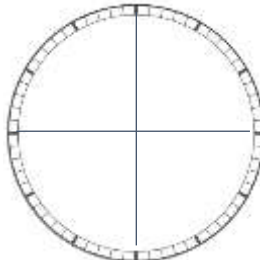
کل ساعت ۱ قسمت است  
و آن قسمت ۶۰ دقیقه است.



ساعت ..... قسمت مساوی شده است  
و هر قسمت ..... دقیقه است.



ساعت ..... قسمت مساوی شده است  
و هر قسمت ..... دقیقه است.



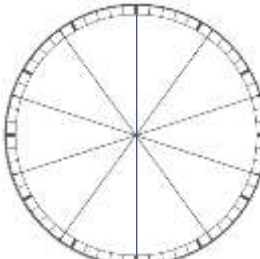
ساعت ..... قسمت مساوی شده است  
و هر قسمت ..... دقیقه است.



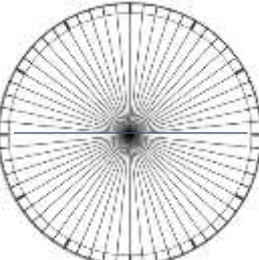
ساعت ..... قسمت مساوی شده است  
و هر قسمت ..... دقیقه است.



ساعت ..... قسمت مساوی شده است  
و هر قسمت ..... دقیقه است.



ساعت ..... قسمت مساوی شده است  
و هر قسمت ..... دقیقه است.



ساعت ..... قسمت مساوی شده است  
و هر قسمت ..... دقیقه است.



ساعت ..... قسمت مساوی شده است  
و هر قسمت ..... دقیقه است.



ساعت ..... قسمت مساوی شده است  
و هر قسمت ..... دقیقه است.