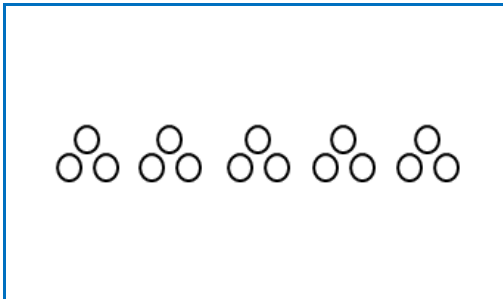


نام و نام خانوادگی: تاریخ:

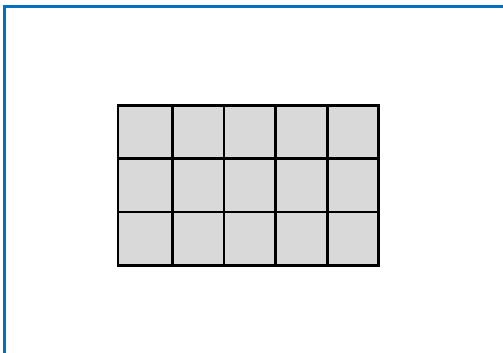
به نظرت برای هر کدام از مسئله‌ها، کدام شکل مناسب تر است؟ مسئله را با یک خط به آن شکل وصل کن.
می توانی یک شکل را برای چند مسئله انتخاب کنی.

۵ تا بشقاب داریم که در هر کدام، ۳ تا سیب هست،
چند تا سیب داریم؟



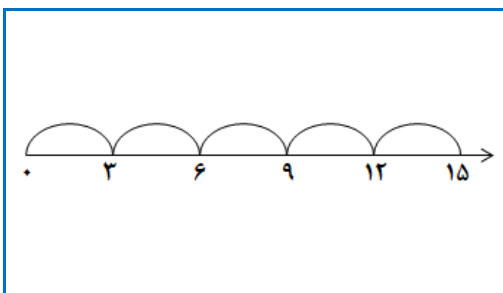
قورباغه‌ای با هر پرش ۳ متر می‌پرد،
با ۵ پرش، چند متر می‌پرد؟

در یک ون ۵ ردیف صندلی ۳ تایی وجود دارد.
چند صندلی در این ون هست؟



برای دوخت هر دست روپوش و شلوار ۳ متر پارچه لازم است.
برای دوخت ۵ دست روپوش و شلوار چند متر پارچه لازم است؟

در یک شانه تخم مرغ با ۵ ردیف تخم مرغ ۳ تایی،
چند تخم مرغ هست؟



هرسه پایه ۳ تا پایه دارد.
۵ تا سه پایه روی هم چند تا پایه دارند؟

جرم ۵ تا وزنه ۳ کیلویی چقدر می‌شود؟

به هر سه‌راهی می‌توان ۳ تا دوشاخه وصل کرد.
به ۵ تا سه‌راهی چند تا دوشاخه می‌توان وصل کرد؟