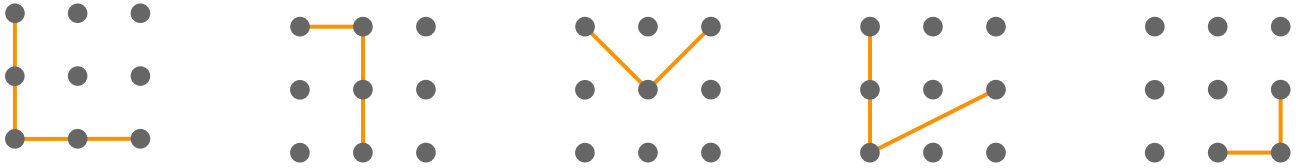


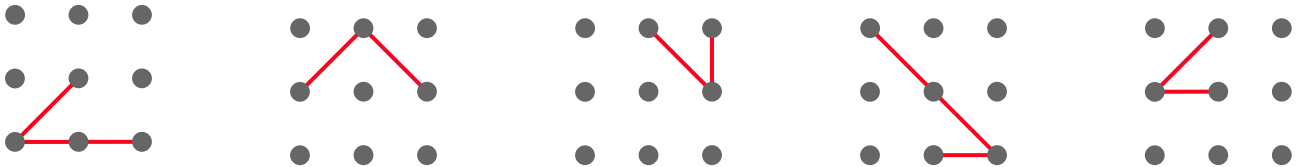
نام و نام خانوادگی: ..... تاریخ: .....

دوست خوبم، در تمامی سوال‌های این برگه، ابتدا و انتهای همه پاره‌خط‌ها باید روی نقطه‌ها باشد!


۱. اندازه کدام زاویه با بقیه فرق دارد؟ اگر شک کردی، از یک طلق کمک بگیر.



۲. از بین زاویه‌های زیر هم، اندازه یکی با بقیه فرق دارد. آن را پیدا کن.



۳. خب! یک زاویه در سمت راست می‌بینی. مداد زیبای بنفش را بردار و در شکل وسط و شکل چپ، زاویه‌ای بکش که هم‌اندازه زاویه‌ی سمت راست باشد. (اگر لازم بود، از طلق کمک بگیر!)



۴. یکی از دوستان، شکل سمت راست را دید و خواست زاویه‌ای هم‌اندازه با آن بکشد. او نیمی از کار را در شکل چپ انجام داد. حالا تو بقیه کار او را کامل کن.

