


نام و نام خانوادگی:

تاریخ:


در شکل‌های زیر چند تا چینش لگویی دیده می‌شود. به هر کدام نگاه کن و مانند نمونه، جاهای خالی را پر کن.



تعداد چینه در هر ردیف: ۳

تعداد ردیف: ۲

مساحت: $۲ \times ۳ = ۶$



تعداد چینه در هر ردیف:


تعداد ردیف:

مساحت:

تعداد چینه در هر ردیف:

تعداد ردیف:

مساحت:




تعداد چینه در هر ردیف:

تعداد ردیف:

مساحت:

این بار به هر شکل نگاه کن و باز هم مانند نمونه جاهای خالی را پر کن.



تعداد چینه در هر ستون: ۲

تعداد ستون: ۳

مساحت: $۳ \times ۲ = ۶$



تعداد چینه در هر ستون:

تعداد ستون:

مساحت:

تعداد چینه در هر ستون:

تعداد ستون:

مساحت:



تعداد چینه در هر ستون:

تعداد ستون:

مساحت:

حالا با لگوهایت نشان بده که $۷ \times ۴ = ۴ \times ۷$