



خطچین‌ها را بپرر.

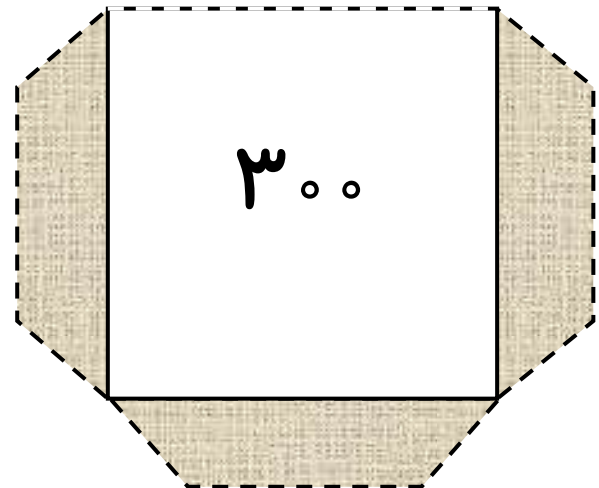
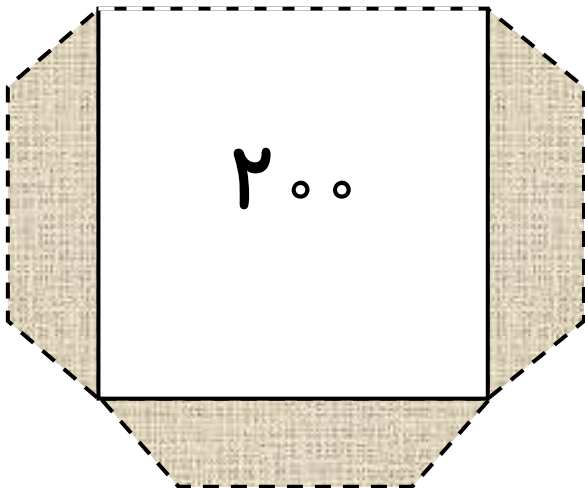
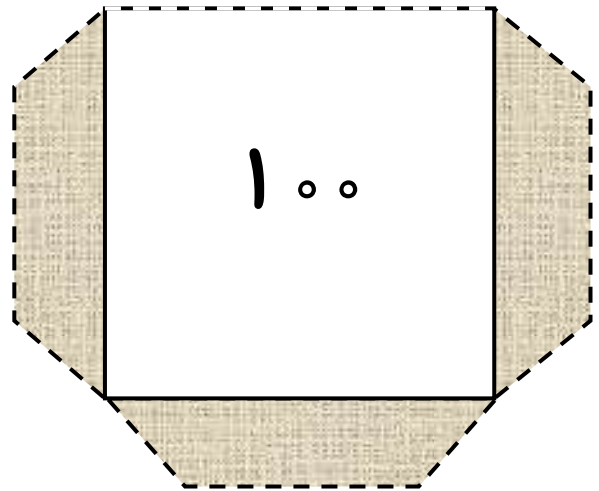
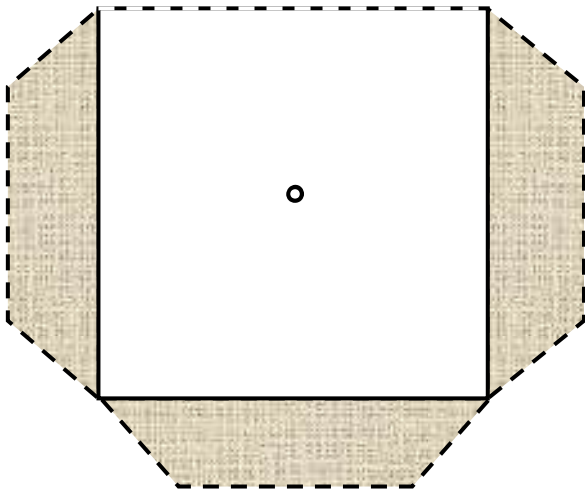
خط‌ها را به سمت داخل تا بزن.

روی قسمت رنگی را چسب بزن و به دفتر بچسبان، طوری که مثل جیب باشد.

نوارهای جمع را بپر. حاصل هر جمع به کدام عدد نزدیک‌تر است؟

هر نوار را در جیبی بینداز که به آن نزدیک‌تر است.

خودت هم می‌توانی نوارهای کاغذی بیشتری درست کنی.



$۲۵+۷۲$	$۷۵+۱۲۳$	$۸۶+۹۱$
$۱۰۷+۱۸$	$۳۲+۲۰۷$	$۹۹+۲۰۶$
$۱۸+۲۶$	$۱۴۲+۲۰۰$	$۲۰۵+۱۰۴$
$۱۲۲+۲۷$	$۴۲+۱۶۱$	$۱۰۹+۱۰۹$