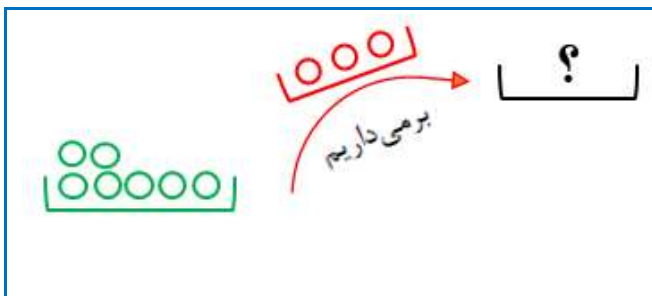


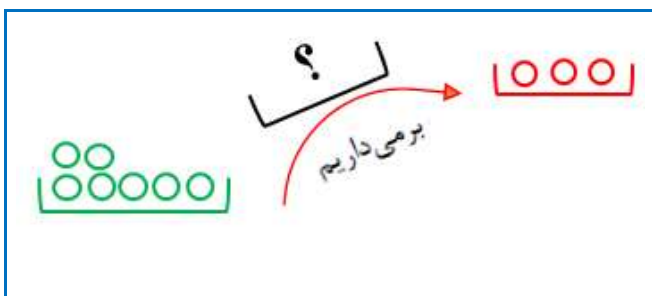
تاریخ: .....

نام و نام خانوادگی: .....

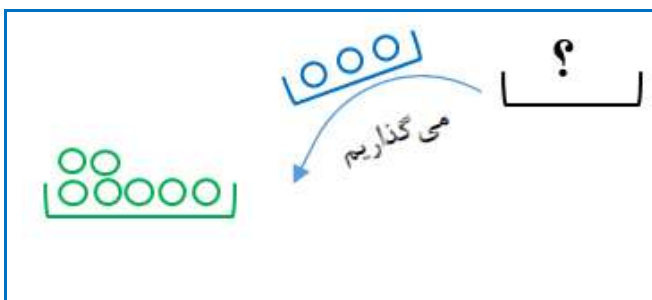
دوست خوبم به نظرت برای هر یک از مسئله‌های زیر، کدام شکل مناسب‌تر است؟ مسئله را با یک خط به آن شکل وصل کن. می‌توانی یک شکل را برای چند مسئله انتخاب کنی.



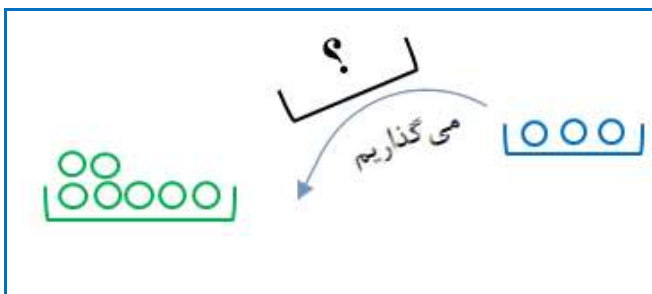
حسین مشغول مرتب کردن کتاب‌هایش بود. او از قبل می‌دانست که ۷ کتاب علمی در مورد جانوران دارد، اما در حال حاضر تنها ۳ تا از آن‌ها را دید. ناگهان به یاد آورد که تعدادی از آن‌ها را به دوستش قرض داده است. به نظر شما حسین چند جلد کتاب به امانت داده بود؟



آراد و ارسلان با یک تاس سرگرم بازی هستند. ارسلان در نوبت خود یک بار تاس را می‌اندازد ولی عدد ظاهر شده را اعلام نمی‌کند. آراد هم تاس را می‌اندازد اما او باید عدد خود را با صدای بلند بگوید. آراد: «۳». سپس ارسلان عدد ۳ را با عدد خودش جمع می‌کند و حاصل آن را ۷ اعلام می‌کند. حالا آراد باید عدد ارسلان را محاسبه کند. چه عددی برای او ظاهر شده بود؟



رایان ۳ دکمه دارد و می‌خواهد با آن‌ها یک کاردستی درست کند. با توجه به ایده‌ای که در ذهن دارد به چند قرقره هم نیاز است. همان‌طور که مشغول گشتن بود، مادرش قرقره‌ها را می‌آورد و کنار دکمه‌ها می‌ریزد. رایان با شمردن آن‌ها متوجه می‌شود که حالا هر ۷ وسیله‌اش آماده است. چند قرقره به دکمه‌ها اضافه شده بود؟



کوروش قصد دارد تا برای آماده کردن نیمروی صبحانه به مادرش کمک کند. او تخم‌مرغ‌ها را از یخچال بیرون می‌آورد. ۳ تا از ۷ تخم‌مرغی که داشتند شکسته بود. حالا چند تخم‌مرغ برای‌شان باقی مانده است؟

می‌دانیم در مجموع ۷ کلاس دوم و سوم در مدرسه داریم. اگر پایه‌ی سوم ۳ کلاس داشته باشد، در پایه دوم چند کلاس داریم؟