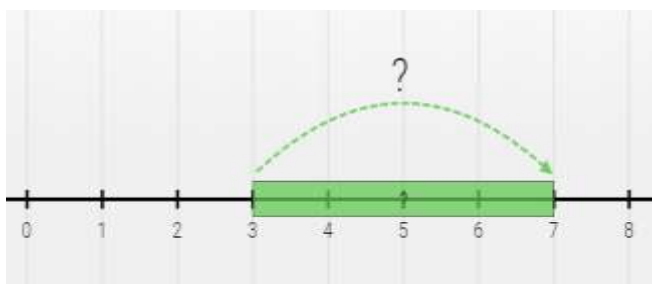
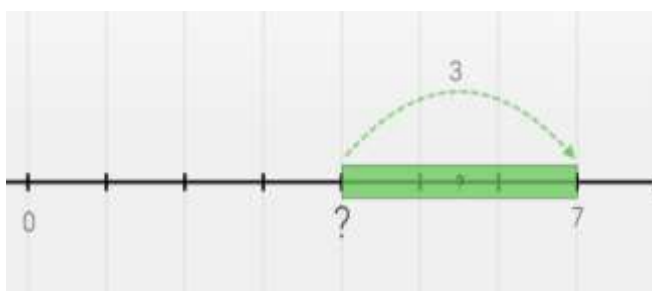
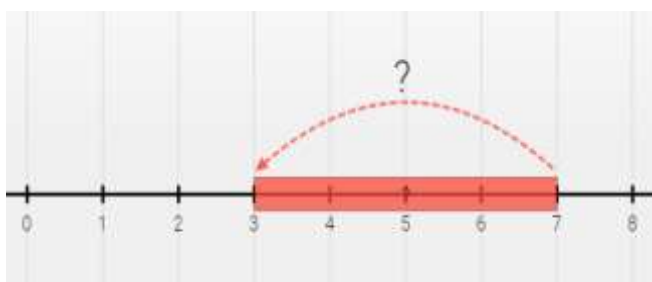
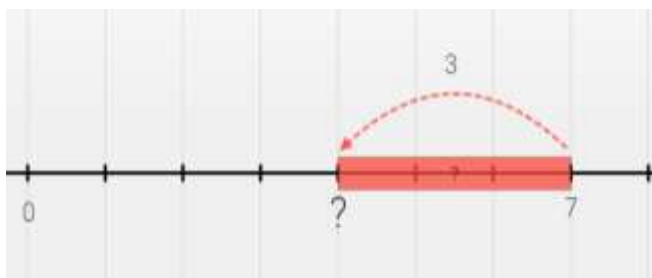


تاریخ:

نام و نام خانوادگی:

دوست خوبم به نظرت برای هر یک از مسئله‌های زیر، کدام شکل مناسب‌تر است؟ مسئله را با یک خط به آن شکل وصل کن. می‌توانی یک شکل را برای چند مسئله انتخاب کنی.



آرتین هم مانند سایر بچه‌ها در ۷ سالگی به کلاس اول دبستان رفت. او در اولین روز از مدرسه، به یاد کلاس نقاشی‌اش افتاد. تقریباً ۳ سال قبلش بود. او در چند سالگی به کلاس نقاشی رفته بود؟

در سال قبل کشور صربستان در رتبه‌ی هفتم جدول بهترین تیم‌های والیبالی دنیا قرار داشت. اما امسال با توجه به نتایج خوبی که به دست آورده‌اند، این تیم به رتبه‌ی سوم جدول رسیده است. آن‌ها چند رتبه در جدول جابه‌جا شده‌اند؟

دانیال در طبقه سوم یک برج قرار دارد و می‌خواهد به طبقه هفتم برود. او باید چند طبقه را با آسانسور بالا برود؟

امشب رأس ساعت ۷ قرار است تلویزیون انیمیشن «ماشین‌ها» را پخش کند. هیرا برای تماشای آن خیلی ذوق دارد اما تازه ساعت ۳ است. او چند ساعت دیگر باید منتظر بماند؟

مادربزرگ محمدحسین به سفر حج رفته بود. او مشغول طواف خانه کعبه بود که ناگهان فراموش کرد چند بار دور خانه خدا چرخیده است. از دوستش پرسید: «چند دور دیگر مانده؟» و او پاسخ داد: «۳ دور». مادربزرگ محمدحسین با توجه به این که می‌دانست همه باید ۷ بار خانه خدا را طواف کنند، به سرعت متوجه شد تا الان چند دور زده است. چند دور؟

امین ۷ متر پارچه از مادرش می‌گیرد و می‌خواهد آن را به دو قسمت تقسیم کند. او متر و قیچی را می‌آورد. ۳ متر از پارچه را اندازه‌گیری و شروع به بریدن آن می‌کند. این تکه از پارچه را برای خودش برمی‌دارد و بقیه آن را به پدرش می‌دهد. چند متر از پارچه سهم پدر شده است؟